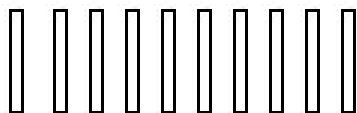


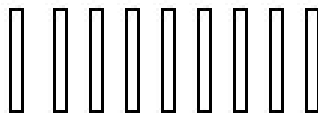
LA MAESTRA HA SCRITTO UN NUMERO ALLA LAVAGNA E ALZA IL NUMERO DI CANNUCCE INDICATO. HA SBAGLIATO?

DISEGNA, NEL QUADRATO A SINISTRA, QUANTE CANNUCCE AVRESTI ALZATO TU USANDO FASCETTI DA 10

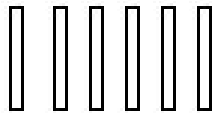
Disegna tu le cannuce

Numero cannuce indicato dalla maestra	Numero scritto alla lavagna
	14

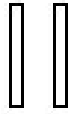
Disegna tu le cannuce

Numero cannuce indicato dalla maestra	Numero scritto alla lavagna
	11

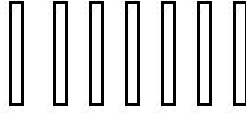
Disegna tu le cannuce

Numero cannuce indicato dalla maestra	Numero scritto alla lavagna
	7

Disegna tu le cannuce

Numero cannuce indicato dalla maestra	Numero scritto alla lavagna
	12

Disegna tu le cannuce

Numero cannuce indicato dalla maestra	Numero scritto alla lavagna
	17