




QUANTE CANNUCCE ?




Disegna 3 cannuce nel primo riquadro
Disegna 6 cannuce nel secondo riquadro
Quante cannuce hai disegnato in tutto? ____




Disegna 9 cannuce nel primo riquadro
Disegna 4 cannuce nel secondo riquadro
Quante cannuce hai disegnato in tutto? ____





Disegna 8 cannuce nel primo riquadro
Disegna 6 cannuce nel secondo riquadro
Quante cannuce hai disegnato in tutto? ____



Disegna 4 cannuce nel primo riquadro
Disegna 7 cannuce nel secondo riquadro
Quante cannuce hai disegnato in tutto? ____



Disegna 7 cannuce nel primo riquadro
Disegna 8 cannuce nel secondo riquadro
Quante cannuce hai disegnato in tutto? ____



Disegna 8 cannuce nel primo riquadro
Disegna 9 cannuce nel secondo riquadro
Quante cannuce hai disegnato in tutto? ____