
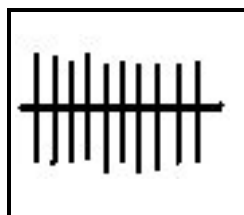





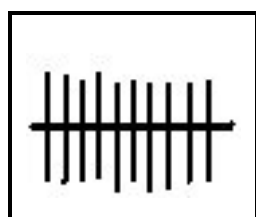
QUANTE CANNUCCE ?



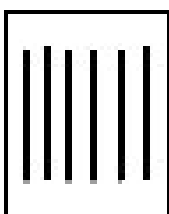

Quante cannuccie nel primo riquadro? ____
 Quante cannuccie nel secondo riquadro? ____
 Quante cannuccie in tutto? ____





Quante cannuccie nel primo riquadro? ____
 Quante cannuccie nel secondo riquadro? ____
 Quante cannuccie in tutto? ____



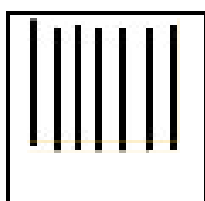

Quante cannuccie nel primo riquadro? ____
 Quante cannuccie nel secondo riquadro? ____
 Quante cannuccie in tutto? ____



Quante cannuccie nel primo riquadro? ____
 Quante cannuccie nel secondo riquadro? ____
 Quante cannuccie in tutto? ____



Quante cannuccie nel primo riquadro? ____
 Quante cannuccie nel secondo riquadro? ____
 Quante cannuccie in tutto? ____



Quante cannuccie nel primo riquadro? ____
 Quante cannuccie nel secondo riquadro? ____
 Quante cannuccie in tutto? ____